

Лаврентьева Елена Александровна

учитель начальных классов

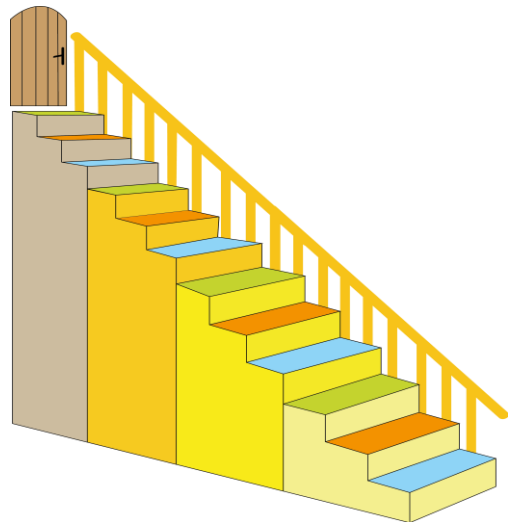
МАОУ "Гимназия "Гармония", г.Великий Новгород

Олимпиада по математике для 1 класса.



1. По двору гуляют 7 щенков.
Сколько у них ушей? _____
Сколько у них лапок? _____

2. Витя спускался по лестнице вниз.
Он прошел 12, 11, 10 ступеньки,
а затем стал шагать через одну.
Запиши все номера ступенек,
которые он пропустил.



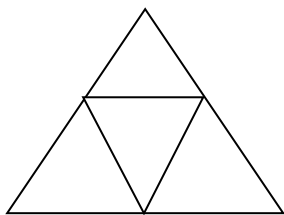
3. Оля и Света носят
фамилии Яблокова и Арбузова.

Какую фамилию
имеет каждая девочка,
если Оля с Арбузовой
живут в соседних домах?



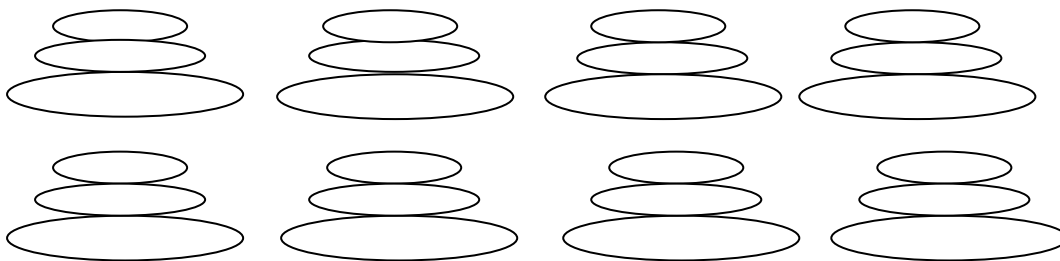
Оля _____ и Света _____

4. Сколько на чертеже треугольников?



_____ треугольников

5. Пирамидка состоит из 3 колец разного цвета: желтого, красного и синего. Раскрась пирамидки разными способами. Сколько разных пирамидок у вас получилось?



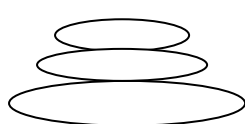
Ответы на задания олимпиады для 1 класса.

1. $2+2+2+2+2+2+2=14$ ушей (16) $4+4+\dots=28$ лапок (16)

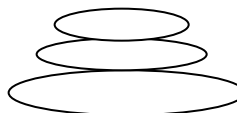
2. 9, 7, 5, 3, 1 (16)

3. Оля Яблокова и Света Арбузова (16)

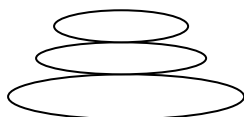
4. 5 треугольников (16)



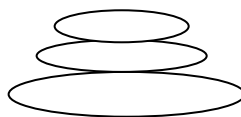
Желтый
Красный
Синий



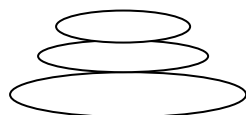
желтый
синий
красный



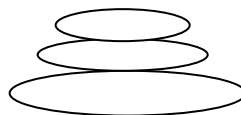
Красный
Желтый
Синий



красный
синий
желтый



Синий
Желтый
Красный



синий
красный
желтый

За системный подбор +1 балл, по 1 баллу за каждый верный вариант. Итого возможно 7б за это задание
Максимальный балл – 12 баллов